

(التقويم النهائى لمهارات العلوم للصف الأول الابتدائى - الفترة الدراسية الثانية ١٤٤٧)

اسم الطالب/ة : الفصل :

السؤال الأول : صل/ي كل كلمة بما يناسبها : (٤ درجات)

٢٠

	<input type="radio"/>		<input type="radio"/>		<input type="radio"/>	مُمَطِر	<input type="radio"/>
	<input type="radio"/>		<input type="radio"/>		<input type="radio"/>	مُشَمِس	<input type="radio"/>
	<input type="radio"/>		<input type="radio"/>		<input type="radio"/>	غَانِم	<input type="radio"/>
	<input type="radio"/>		<input type="radio"/>		<input type="radio"/>	عَاصِف	<input type="radio"/>

السؤال الثاني : اختار/ي الإجابة الصحيحة : (٦ درجات)

	١	ماذا يحدث للورقة عند ثنيها :	أ- يتغير لونها . ب- يتغير شكلها . ج - تبقى كما هي
	٢	أي السوائل لا يختلط بالماء :	أ - العصير ب - الحليب ج - الزيت
	٣	يمكن قياس المسافة باستخدام :	أ - المسطرة . ب - الميزان . ج- مقياس الحرارة .
	٤	ما الذي يصدر منه الصوت :	أ- الورد ب- الجرس . ج - المصباح
	٥	في أي فصول السنة تنمو الأشجار :	أ- الخريف ب - الشتاء ج- الربيع
	٦	على ماذا يحتوى البالون :	أ- غاز ب- صلب ج- سائل



(٤ درجات)

السؤال الثالث : صل/ي كل كلمة بما يناسبها :



<input type="radio"/>	<input type="radio"/>	
<input type="radio"/>	<input type="radio"/>	
<input type="radio"/>	<input type="radio"/>	
<input type="radio"/>	<input type="radio"/>	

حرارة

كهربائية

صوت

ضوء

<input type="radio"/>	<input type="radio"/>	
<input type="radio"/>	<input type="radio"/>	
<input type="radio"/>	<input type="radio"/>	
<input type="radio"/>	<input type="radio"/>	

لاحتكاك

الجاذبية

السحب

الدفع

السؤال الرابع : ضع/ي علامة (✓) أو علامة (✗) أمام العبارات التالية : (٦ درجات)



<input type="radio"/>	السيارة تتحرك أسرع من الطائرة .	١
<input type="radio"/>	الطاقة هي من تجعل الأشياء تعمل وتتغير.	٢
<input type="radio"/>	من مصادر الطاقة الحرارية على الأرض الشمس.	٣
<input type="radio"/>	لتحريك جسم ثقيل نحتاج قوة أقل .	٤
<input type="radio"/>	الأشياء الخفيفة تنغمر داخل الماء .	٥
<input type="radio"/>	المادة الصلبة لها شكل وحجم ثابت .	٦

* صغيرتي كم أنا فخورة بكِ



معلمتك / وداد الحربي *

موقع واجباتي



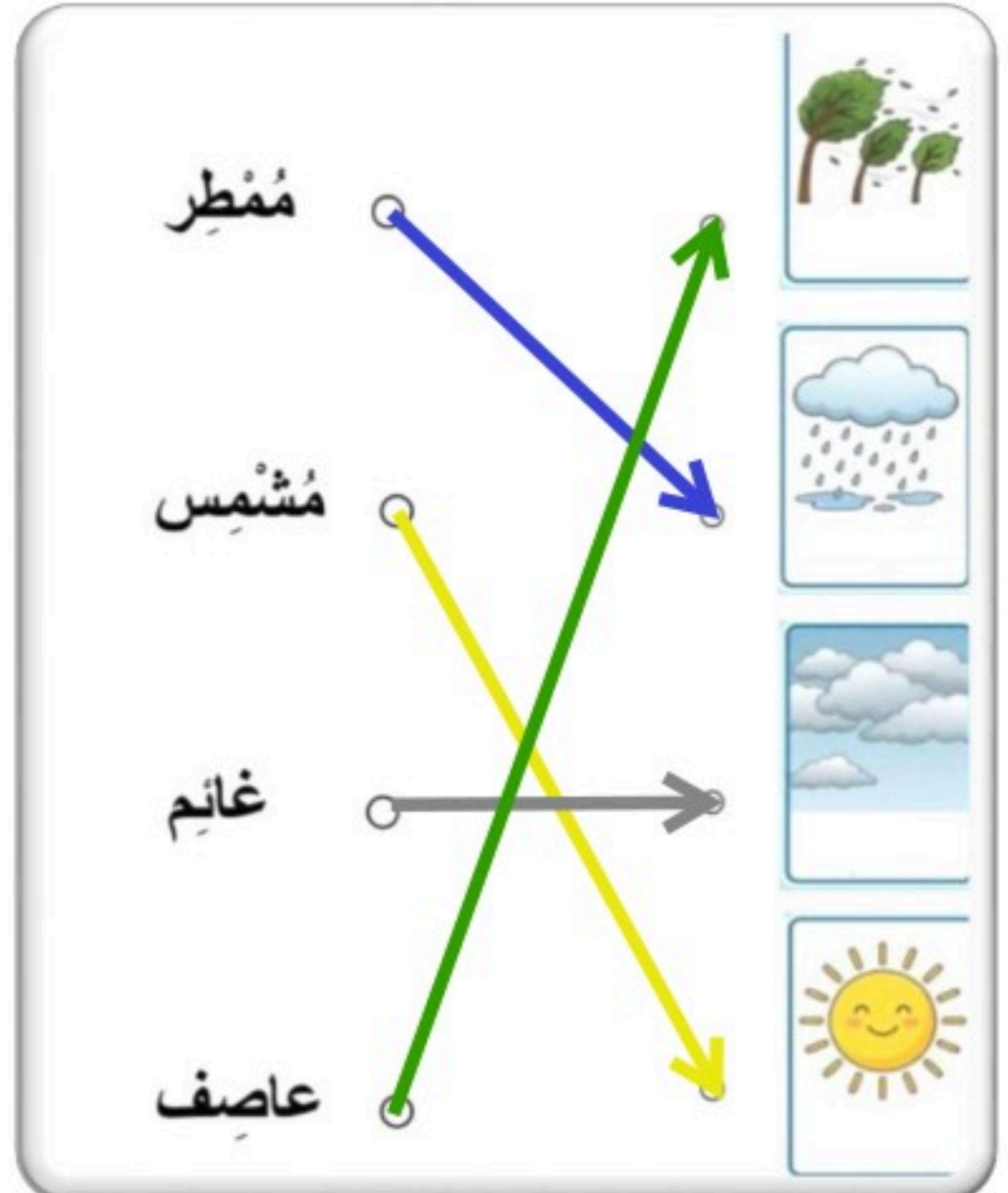

نموذج الإجابة

لدراسية الثانية (١٤٤٧)

اسم الطالب/ة : الفصل :

السؤال الأول : صل/ي كل كلمة بما يناسبها : (٤ درجات)

٢٠



السؤال الثاني : اختار/ي الإجابة الصحيحة : (٦ درجات)

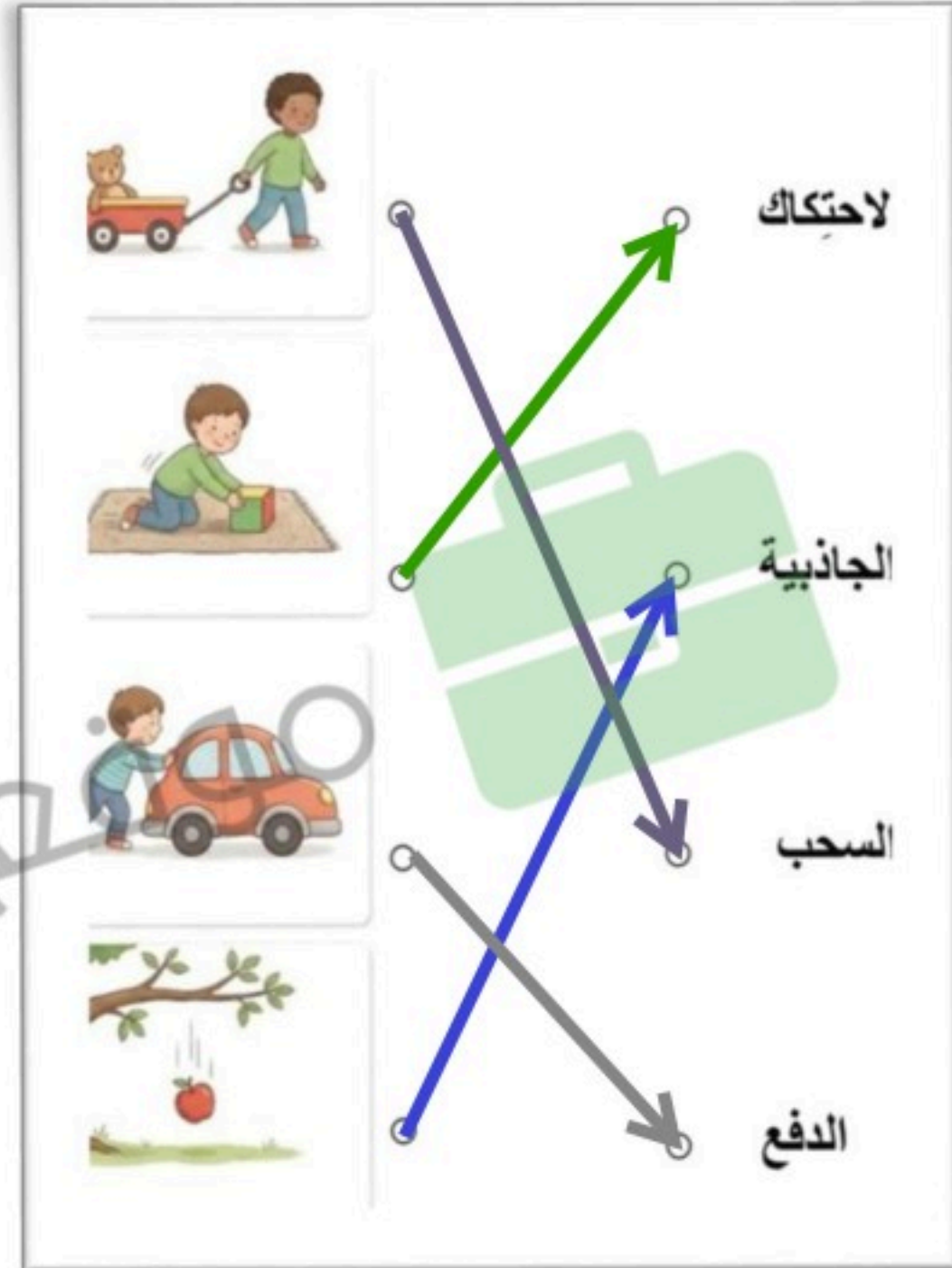
١	ماذا يحدث للورقة عند ثنيها : أ- يتغير لونها . ب- يتغير شكلها . ج - تبقى كما هي	
٢	أي السوائل لا يختلط بالماء : أ - العصير ب - الحليب ج - الزيت	
٣	يمكن قياس المسافة باستخدام : أ - المسطرة . ب - الميزان . ج - مقياس الحرارة .	
٤	ما الذي يصدر منه الصوت : أ- الورد ب- الجرس . ج - المصباح	
٥	في أي فصول السنة تنمو الأشجار : أ- الخريف ب - الشتاء ج- الربيع	
٦	على ماذا يحتوى البالون : أ- غاز ب- صلب ج- سائل	

موقع واجباتي



(٤ درجات)

السؤال الثالث : صل/ي كل كلمة بما يناسبها :



السؤال الرابع : ضع/ي علامة (✓) أو علامة (✗) أمام العبارات التالية : (٦ درجات)

<input type="checkbox"/>	السيارة تتحرك أسرع من الطائرة .	١
<input checked="" type="checkbox"/>	الطاقة هي من تجعل الأشياء تعمل وتتغير.	٢
<input checked="" type="checkbox"/>	من مصادر الطاقة الحرارية على الأرض الشمس.	٣
<input type="checkbox"/>	لتحريك جسم ثقيل نحتاج قوة أقل .	٤
<input type="checkbox"/>	الأشياء الخفيفة تنغمر داخل الماء .	٥
<input checked="" type="checkbox"/>	المادة الصلبة لها شكل وحجم ثابت .	٦

موقع واجباتي 