

اختبار مادة الرياضيات للصف الأول الابتدائي ( الفترة 2 - الفصل الدراسي الثاني 1447 هـ )

اسم الطالب	الصف	أول /
------------	------	-------

9

السؤال 1



أ اكتب العدد في صورة آحاد وعشرات :

1 ٧٥ آحادًا = ..... آحادٍ و ..... عَشْرَاتٍ .

2 ٩٢ آحادًا = ..... آحادٍ و ..... عَشْرَاتٍ .

ب اكتب العدد بطرائق مختلفة :

عَشْرَاتٍ	آحادٍ


عَشْرَاتٍ	آحادٍ
	

..... آحادٍ و ..... عَشْرَاتٍ

ج أحوط 10 أشياء ، وأقدر العدد ، ثم أعد لأجد العدد الحقيقي :

التقدير: .....

العدد الحقيقي: .....



د اكتب < أو > أو = في ○ :

7 ٨٢ ○ ٨٦

6 ٣٧ ○ ٣٧

5 ٨٥ ○ ٦٥

اقلب الورقة



أ اكتب العدد الذي يلي مباشرة :

8 37 ، ..... 9 39 ، ..... 10 41 ، .....

ب اكتب العدد الذي يسبق مباشرة :

11 36 ، ..... 12 50 ، ..... 13 46 ، .....

أ ارتب الأشياء من الأقصر إلى الأطول ، وأكتب الأرقام 1 أو 2 أو 3 مبتدئاً بالأقصر :



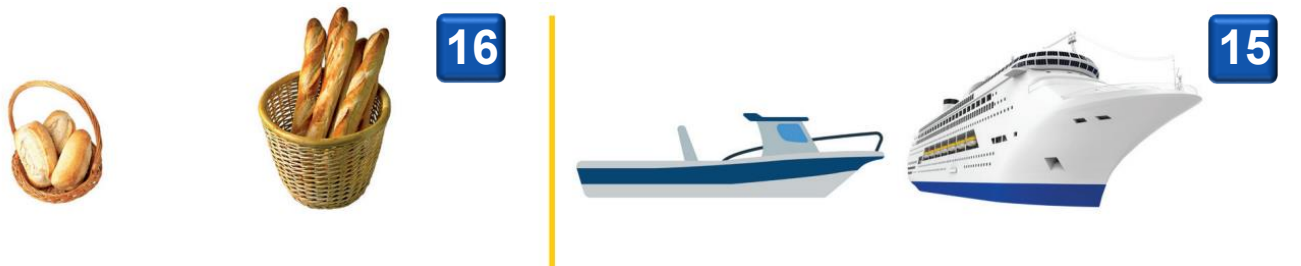
14

.....

.....

.....

ب أحوط الشيء الأخف :



16

15

ج أحوط الشيء الذي سعته أقل :



18

17