





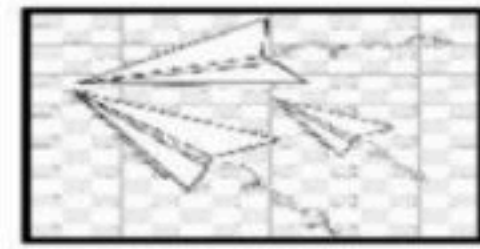

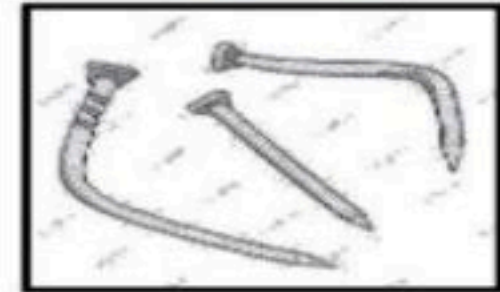

		المملكة العربية السعودية
		الإدارة العامة للتعليم بمنطقة
		المدرسة الابتدائية

* (تقويم مهارات علوم أولى ابتدائي الفترة الثانية _ الفترة الدراسية الثانية ١٤٤٧) *

الاسم :	الفصل :
---------------	---------------

(٦ درجات)

• (أ) صلى بين المادة وكيف تغيرت :



(٤ درجات)

ب (أكمل الجمل بالكلمات المناسبة :



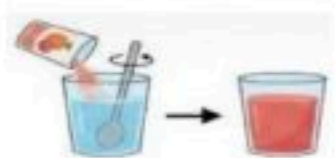
الكتاب



المخلوط



تحترق



تذوب

تختلط المواد الصلبة بشكل تام بالماء أي أنها

عندما المادة تغير الحرارة من خصائصها

سلطة الخضار مثال على

مثال على المادة الصلبة

(٤ درجات)

السؤال الثاني : أ) - صل/ي كل كلمة بما يناسبها :



ميزان ذو كفتين

سائل

صلب

بالون مملوء
بالغاز



(٦ درجات)

ب) * اختار/ي الإجابة الصحيحة :



١- أي السوائل التالية لا يختلط بالماء :		
الحليب	الزيت	العصير
٢- من أمثلة المواد السائلة :		
العصير	الكتاب	الأكسجين
٣- مادة لها كتلة وشكلها ثابت :		
المادة الغازية	المادة الصلبة	المادة السائلة
٤- ماذا يحدث عند تحريك الملح في الماء :		
ينغمر	يطفو	يزوب
٥- لقياس طول الكتاب استخدم :		
المسطرة	دوارة الرياح	الميزان
٦- المادة التي تنتشر لتملأ المكان :		
المادة الصلبة	المادة الغازية	المادة السائلة

صغيرتي

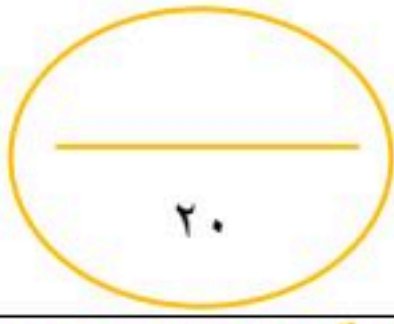
" ثقي بنفسك..... فاتي مميزة "



معلمتك / و داد الحربي .

موقع منهجي
mnhaji.com





نموذج الإجابة

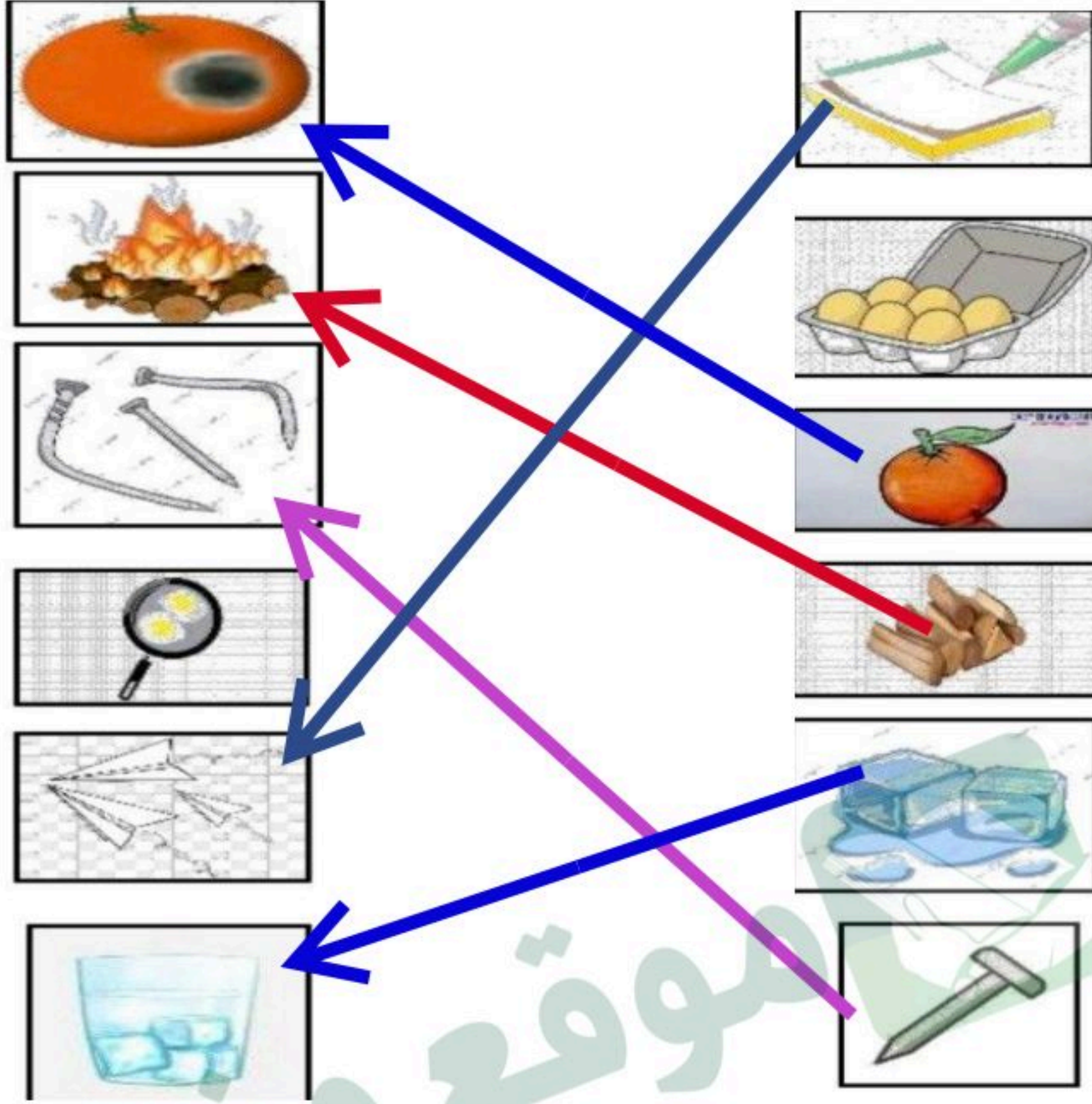
* (تقويم مهارات علوم أولى ابتدائي الفترة الثانية _ الفترة الدراسية الثانية ١٤٤٧) *

الفصل :

الاسم :

(٦ درجات)

أ (صل اي بين المادة وكيف تغيرت :



(٤ درجات)

ب (أكمل الجمل بالكلمات المناسبة :



الكتاب

المخلوط

تحترق

تذوب

تختلط المواد الصلبة بشكل تام بالماء أي أنها

عندما المادة تغير الحرارة من خصائصها

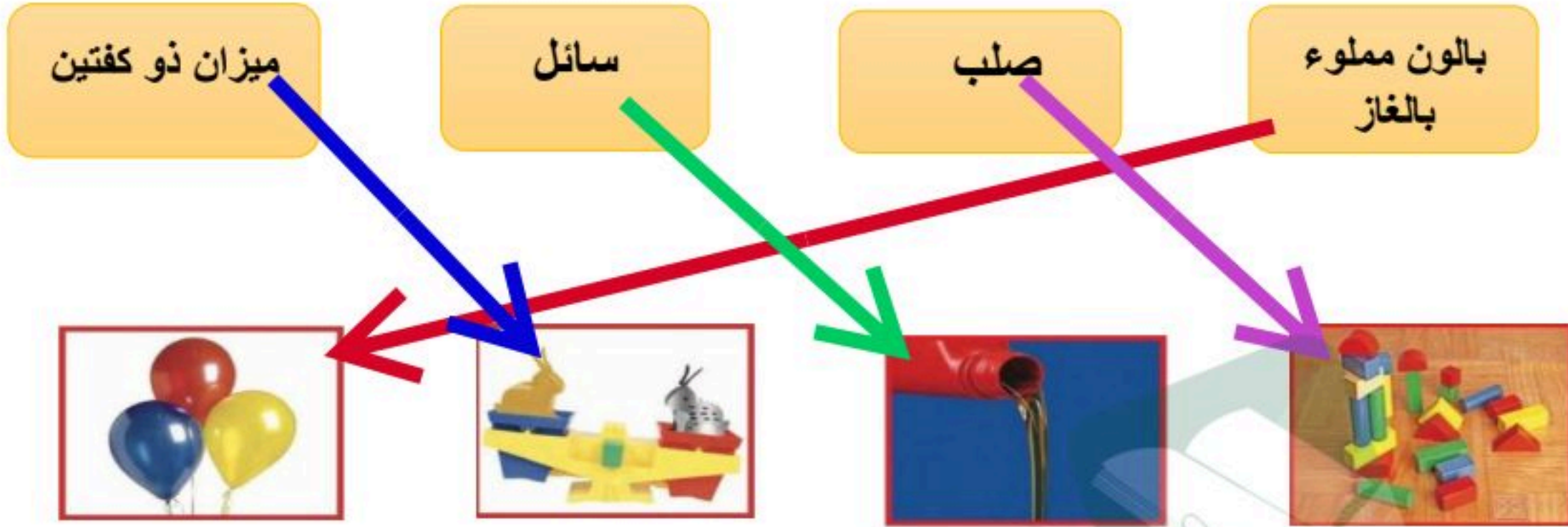
سلطة الخضار مثال على

مثال على المادة الصلبة



(٤ درجات)

السؤال الثاني : أ) - صل/ي كل كلمة بما يناسبها :



(٦ درجات)

ب) * اختار/ي الإجابة الصحيحة :



١- أي السوائل التالية لا يختلط بالماء :

العصير	الزيت	الحليب
--------	-------	--------

٢- من أمثلة المواد السائلة :

الأكسجين	الكتاب	العصير
----------	--------	--------

٣- مادة لها كتلة وشكلها ثابت :

المادة السائلة	المادة الصلبة	المادة الغازية
----------------	---------------	----------------

٤- ماذا يحدث عند تحريك الملح في الماء :

يدوب	يطفو	ينغمر
------	------	-------

٥- لقياس طول الكتاب استخدم :

الميزان	دوارة الرياح	المسطرة
---------	--------------	---------

٦- المادة التي تنتشر لتملأ المكان :

المادة السائلة	المادة الغازية	المادة الصلبة
----------------	----------------	---------------

صغيرتي

" ثقي بنفسك فاتي مميزة "



معلمتك / و داد الحربي .

موقع منهجي
mnhaji.com

