

((تقويم مهارات الصف الثاني الفترة الأولى (الفترة الدراسية الثانية) ١٤٤٧ هـ))

اسم الطالب / ة الصف:

(١٠ درجات)

* السؤال الأول : (أ) اختاري الإجابة الصحيحة :

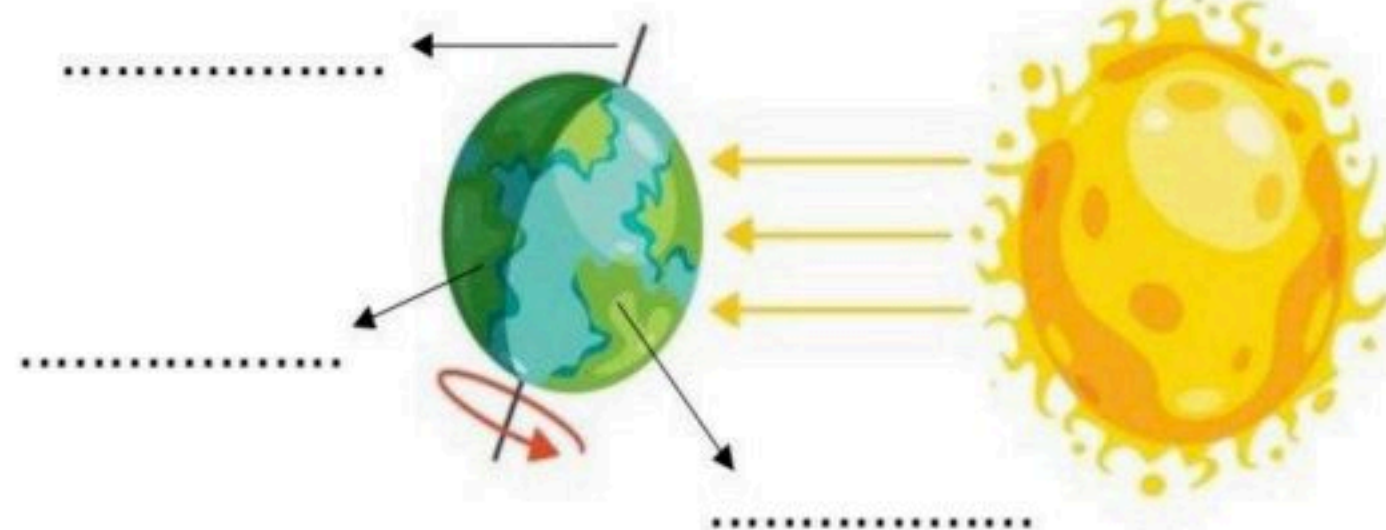
١ - فصل يتغير فيه لون ورق الشجر ويتساقط :			
الصيف	الخريف	الشتاء	الربيع
٢- تحتاج الأرض لتدور حول الشمس :			
يوم	أسبوع	شهر	سنة
٣- جسم في الفضاء يتكون من غازات ساخنة متوهجة :			
الأرض	النجم	الغبار	الكوكب
٤- فصل ترتفع فيه درجة الحرارة			
الخريف	الصيف	الشتاء	الربيع
٥- أقرب الكواكب الى الشمس ...			
زحل	المريخ	الأرض	المشتري
٦ - جسم كروي ضخم يتحرك حول الشمس ...			
القمر	الكوكب	النجم	الشمس
٧- أي مما يلي من الكواكب الخارجية :			
عطارد	زحل	الأرض	المريخ

ب) - أضع كل كلمة في مكانها المناسب :

النهار

الليل

المحور



نموذج الإجابة

المملكة العربية السعودية
وزارة التعليم
إدارة التعليم بمنطقة
مدرسة

((تقويم مهارات الصف الثاني الفترة الأولى (الفترة الدراسية الثانية) ١٤٤٧ هـ))

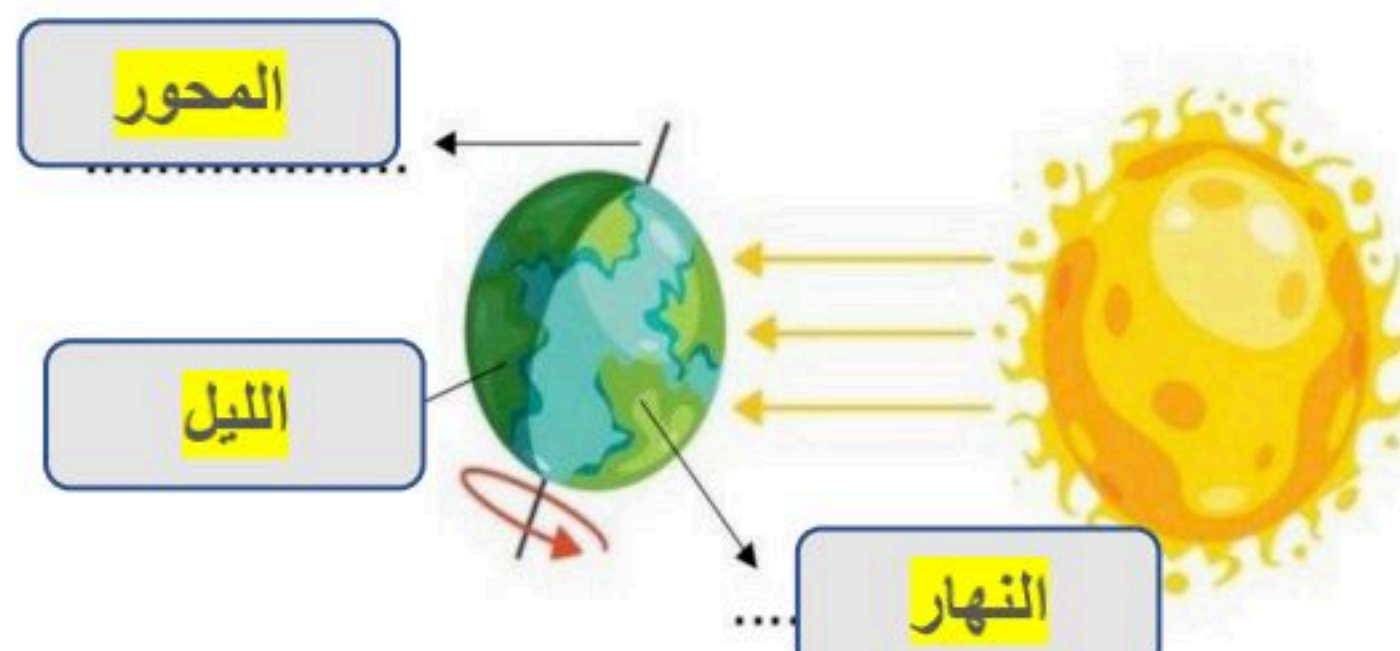
اسم الطالب / ة ((نموذج إجابة)) الصف:

(١٠ درجات)

* السؤال الأول : أ) اختاري الإجابة الصحيحة :

١ - فصل يتغير فيه لون ورق الشجر ويتساقط :			
الصيف	الخريف	الشتاء	الربيع
٢- تحتاج الأرض لتدور حول الشمس :			
يوم	أسبوع	شهر	سنة
٣- جسم في الفضاء يتكون من غازات ساخنة متوهجة :			
الأرض	النجم	الغبار	الكوكب
٤- فصل ترتفع فيه درجة الحرارة			
الخريف	الصيف	الشتاء	الربيع
٥- أقرب الكواكب الى الشمس ...			
زحل	المريخ	عطارد	المشتري
٦ - جسم كروي ضخم يتحرك حول الشمس ...			
القمر	الكوكب	النجم	الشمس
٧- أي مما يلي من الكواكب الخارجية :			
عطارد	زحل	الأرض	المريخ

ب) - أضع كل كلمة في مكانها المناسب :



يتعاقب الليل والنهار بسبب دوران الارض :

تحدث الفصول الاربعة بسبب دوران الارض :

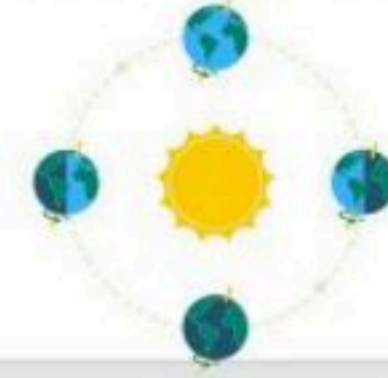
1

أتقن
لم يتقن



حول محورها

حول الشمس



حول الشمس

حول محورها

مَمَّ يتكوّن النظام الشمسي؟

2

أتقن
لم يتقن



أتقن
لم يتقن


أضع الكلمات في مكانها المناسب

3

صباحاً

ظهراً


عصراً



.....



.....



.....

أتقن
لم يتقن

أتقن
لم يتقن

رتب أطوار القمر:


4



أتقن
لم يتقن

وصل كل صورة بالفصل المناسب لها

5



أنتهت الاسئلة



فصل الخريف

فصل الصيف

فصل الربيع

فصل الشتاء

نموذج الإجابة

تقويم مادة : العلوم الصف : الثاني الابتدائي
الفصل الدراسي الثاني - الفترة الاولى

يتعاقب الليل والنهار بسبب دوران الارض :

تحدث الفصول الاربعة بسبب دوران الارض :

1

أتقن
لم يتقن



حول محورها

حول الشمس



حول الشمس

حول محورها

مَمَّ يتكوّن النظام الشمسي؟

2

أتقن
لم يتقن



أتقن
لم يتقن

أضع الكلمات في مكانها المناسب

3

صباحاً

ظهراً


عصراً



عصراً



ظهراً





صباحاً

أتقن
لم يتقن

أتقن
لم يتقن

رتب أطوار القمر:

4



أتقن
لم يتقن

وصل كل صورة بالفصل المناسب لها


5



فصل الصيف



فصل الخريف



فصل الشتاء



فصل الربيع

أنتهت الاسئلة



قياس مهارات مادة العلوم الفترة الثالثة للصف الثاني الابتدائي - الفصل الدراسي الثاني

اسم الطالب/ة : الصف :

● ذكر سبب حدوث الليل والنهار - سبب حدوث الفصول الأربعة

● أكتب السبب في الظاهرة التي تحدث حسب الشكل :

٢- حدوث الفصول الأربعة

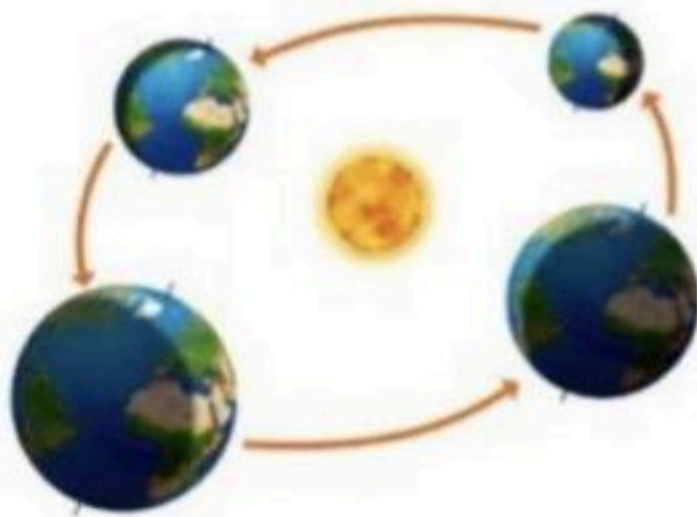
١- تعاقب الليل والنهار



ميل الأرض أثناء دورانها حول

دوران الأرض حول

● اختراري الإجابة الصحيحة :




1- سبب حدوث الليل و النهار :

(دوران الأرض حول محورها - دوران الأرض حول الشمس)

2- سبب حدوث الفصول الأربعة :

(دوران الأرض حول محورها - دوران الأرض حول الشمس)

- ترتيب أطوار القمر من خلال الصور
❖ أرتب أطوار القمر حسب بداية ظهورها




.....

.....

.....

.....

- تعدد مكونات النظام الشمسي
❖ ضعي دائرة على كوكب الأرض في الرسم أمامك :



- ❖ أكملني بمساعدة الرسم السابق يتكون النظام الشمسي من :

.....
.....
.....

معلمة المادة / عائشة أبو حكمة

١/ أملئ الفراغات التالية بالكلمات المناسبة :

المحور - مدار - دوران الأرض

١/ يتعاقب الليل والنهار بسبب حول محورها كل ٢٤ ساعة

٢/ تدور الأرض حول خط وهمي يسمى

٣/ المسار الذي تتبعه الأرض في الدوران حول الشمس يسمى

٢/ ضع دائرة حول الإجابة الصحيحة :

أ / ينتج عن دوران الأرض حول نفسها :

○ الفصول الأربعة ○ الليل والنهار

ب / تدور الأرض حول محورها كل :

○ ٢٤ ساعة ○ سنة ○ شهر

٣/ ضع الكلمات التالية في مكانها المناسب لتوضيح حركة الشمس في السماء

(تغيب - منتصف - ترتفع)



١) عندما يحل المساء فإن الشمس في السماء



٢) في وقت الظهر ترى الشمس في السماء



٣) في الصباح يبدو لنا أن الشمس في السماء

٤/ ضعي كل كلمة مما يلي في مكانها المناسب

الصيف – الشتاء – الربيع – الخريف

- ١- يحدث البسات الشتوي في فصل
- ٢- أكثر فصول السنة حرارة فصل
- ٣- تتفتح الأزهار وتخضر الأشجار في فصل
- ٤- تساقط أوراق الأشجار في فصل
- ٥- يطول النهار ويقصر الليل في فصل
- ٦- يطول الليل ويقصر النهار في فصل

٥/ ارسمي دائرة حول الإجابة الصحيحة :

- ١- سبب حدوث الفصول الأربعة :
 - دوران الأرض حول محورها
 - ميلان محور الأرض أثناء دورانها حول الشمس
 - دوران الأرض حول القمر
- ٢- ينتج عن دوران الأرض حول الشمس وميلان محورها :
 - تعاقب الليل والنهار
 - حدوث الفصول الأربعة
 - جميع ما سبق
- ٣- كل فصل من الفصول الأربعة :
 - ٣ أشهر
 - ٤ أشهر

٦/رتبي أطوار القمر بالتسلسل حسب بداية ظهورها :

هلال	تربيع آخر	تربيع أول	بدر
<input type="checkbox"/>	<input type="checkbox"/>	<input type="checkbox"/>	<input type="checkbox"/>

٧ /ضعي علامة صح أمام العبارة الصحيحة وعلامة خطأ أمام العبارة الخاطئة :

- ١- الشمس هي مصدر الضوء والحرارة على سطح الأرض ()
- ٢- الشمس والكواكب الثمانية وأقمارها مكونات النظام الشمسي ()
- ٣- تعتبر الشمس أقرب النجوم إلى سطح الأرض ()
- ٤- نستطيع العيش على كوكب آخر غير الأرض. ()
- ٥- عدد الكواكب التي تدور حول الشمس في النظام الشمسي ثمانية كواكب ()
- ٦- الشمس مهمة لجميع الكائنات الحية على سطح الأرض ()

من مكونات النظام الشمسي :

- ١-
- ٢-

٨/ قارني بين خواص المادتين الصلبتين باستخدام الكلمات المناسبة لقراءة الصور :

<input type="radio"/> قابل للتشكيل <input type="radio"/> متماسك	<input type="radio"/> ناعم <input type="radio"/> خشن	<input type="radio"/> لين <input type="radio"/> قاسي	 حجر
<input type="radio"/> قابل للتشكيل <input type="radio"/> متماسك	<input type="radio"/> ناعم <input type="radio"/> خشن	<input type="radio"/> لين <input type="radio"/> قاسي	 صلصال

٩/ صلي كل صورة بما يناسبها من خصائص :



أسفنج بحري

طويلة ورفيعة



صلصال

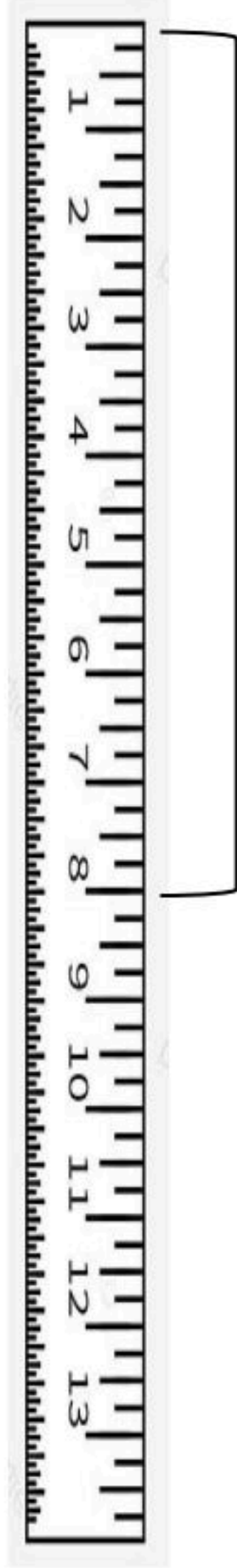
فيه فجوات



خيوط ملونة

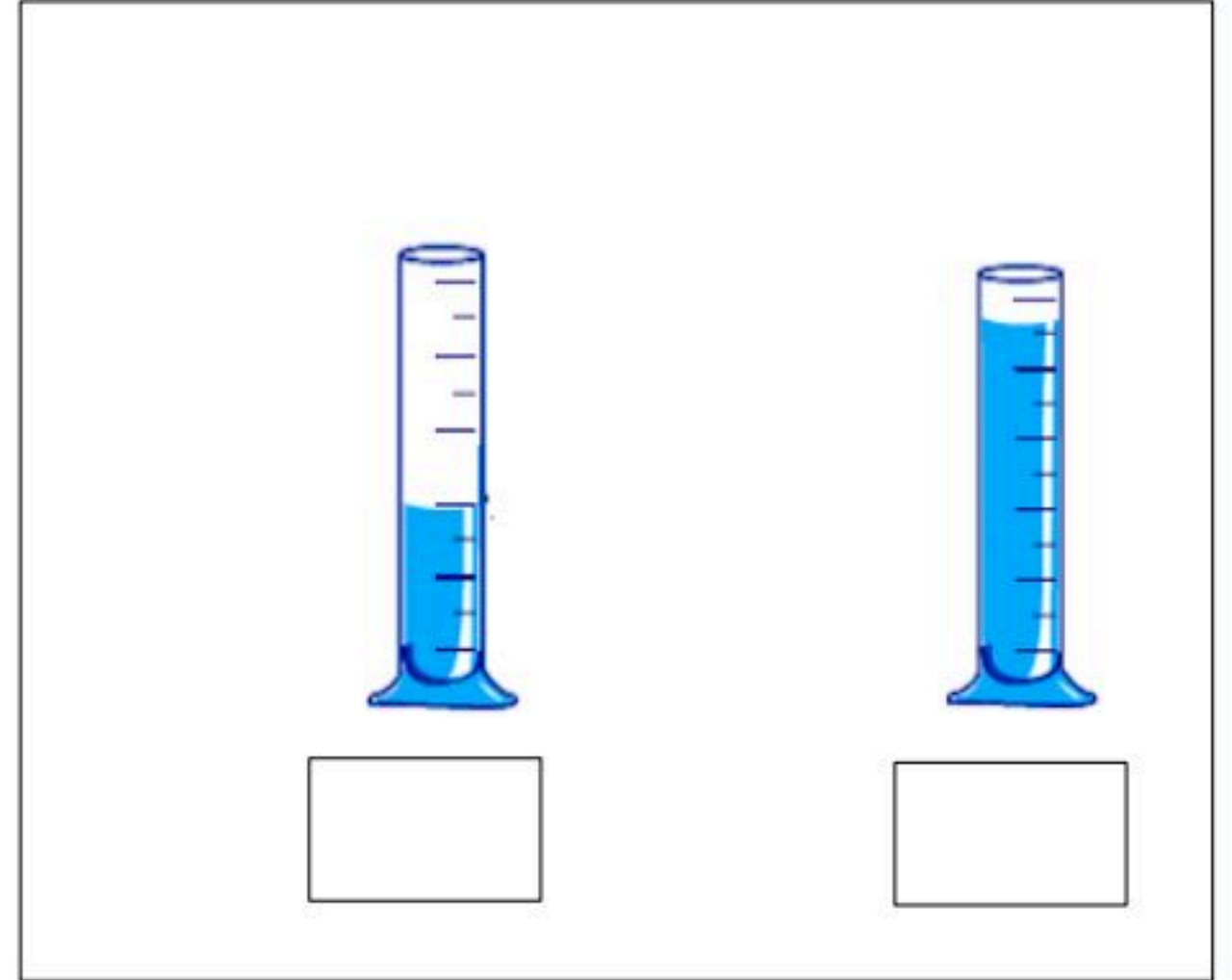
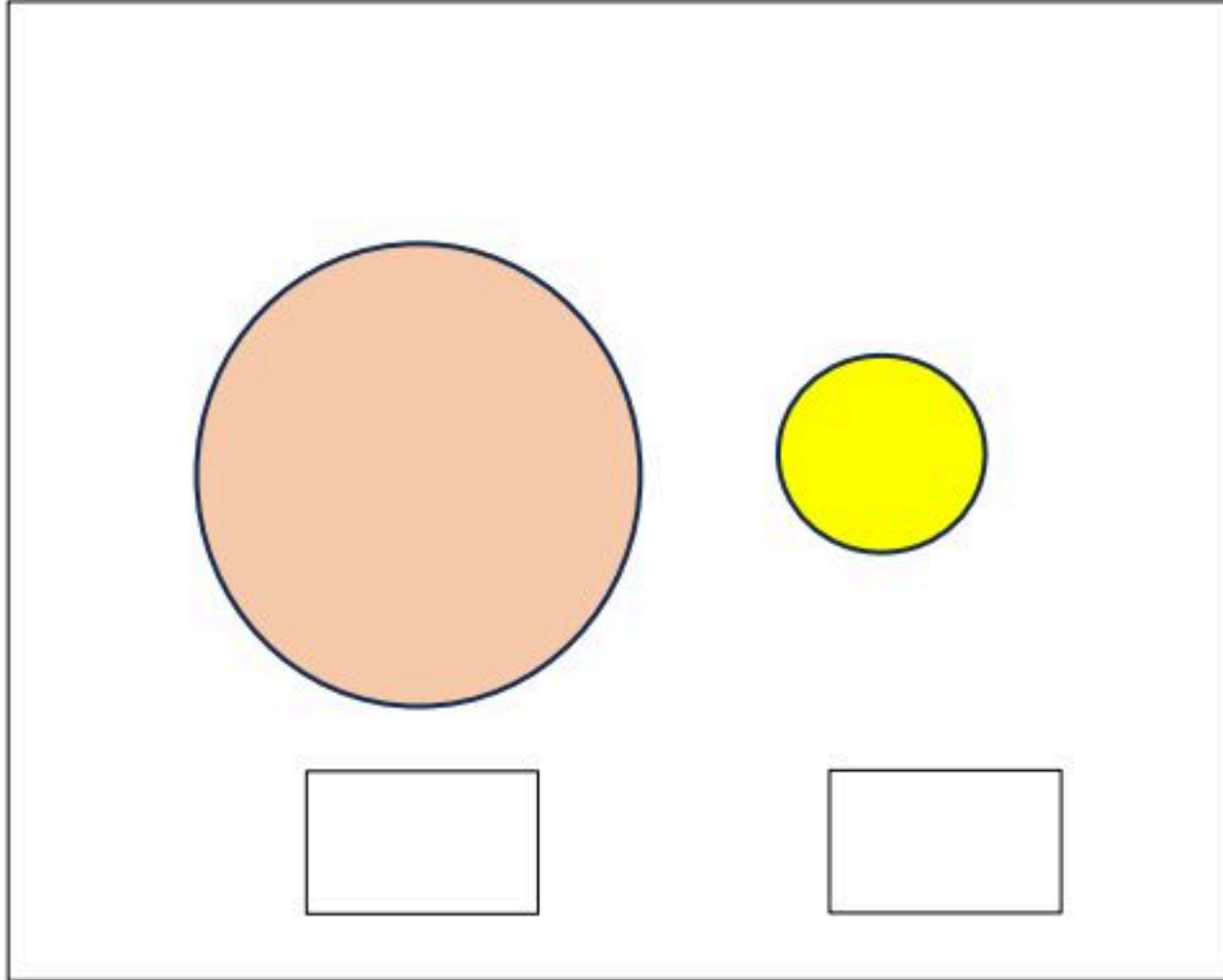
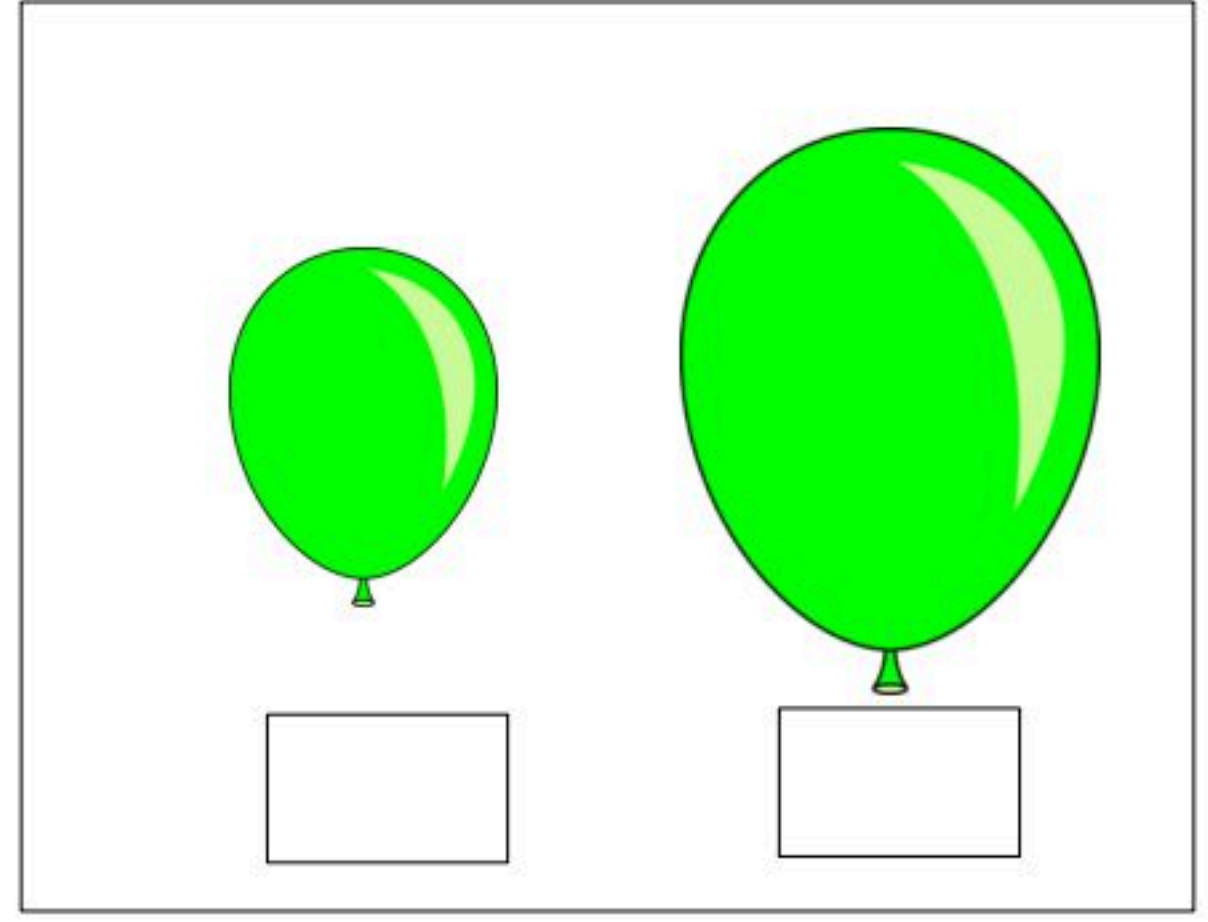

قابل للتشكيل

١٠ / قيسي طول الكتاب باستخدام المسطرة :



طول الكتاب
.....



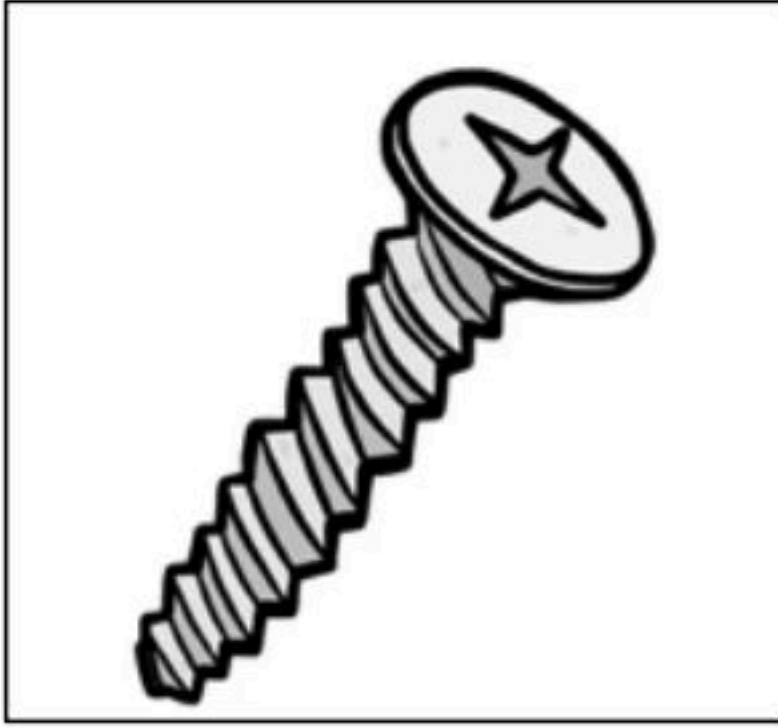
١١ / ضع إشارة صح في المربع المناسب :



١٢ / لوني الدوائر التي تحتوي على:

● التغيير الكيميائي باللون الأحمر

● التغيير الفيزيائي باللون الأزرق



١٣/ ارسمي دائرة حول الإجابة الصحيحة :

١-يؤثر الولد على الجسم بالصورة التي أمامك بقوة :



-الدفع

-السحب

٢-القوى التي تسبب سقوط الأجسام وسحبها إلى الأرض :

-الجاذبية الأرضية

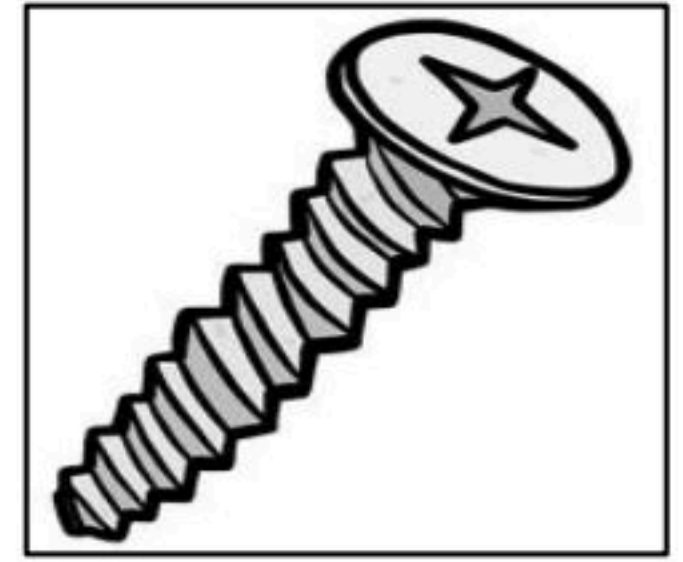
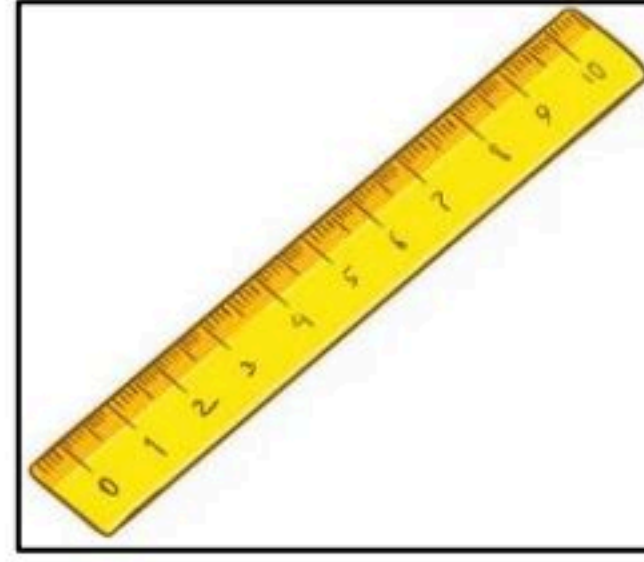

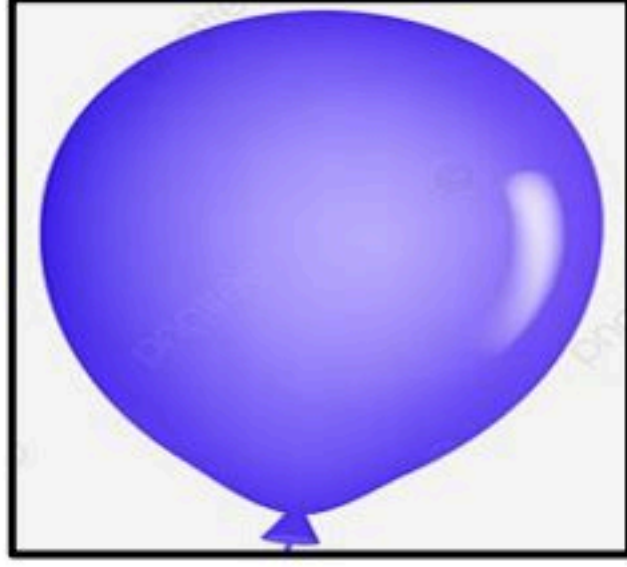
-الأحتكاك

٣-القوى التي تبطئ الأجسام وتوقفها :


-السحب

-الأحتكاك

١٤ / ضع إشارة صح تحت الأجسام التي يجذبها المغناطيس :



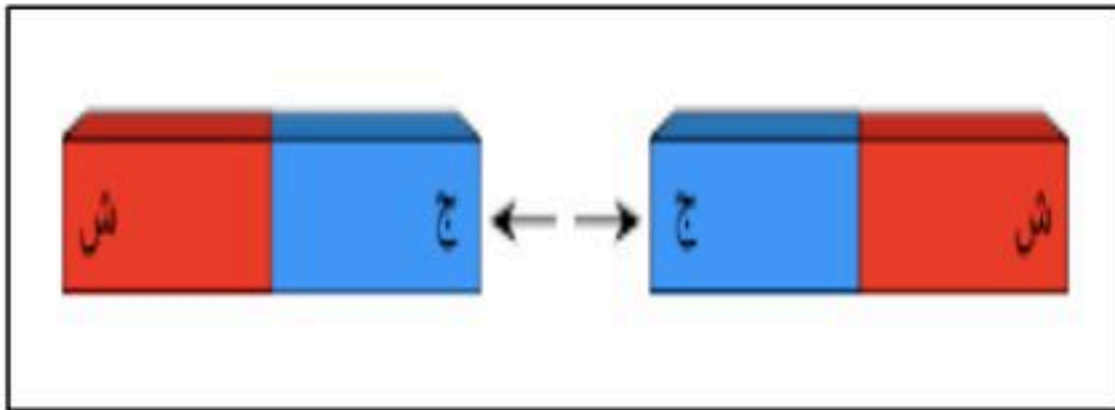
١٥/ أحدد قطبي المغناطيس مستعينة بالصورة :



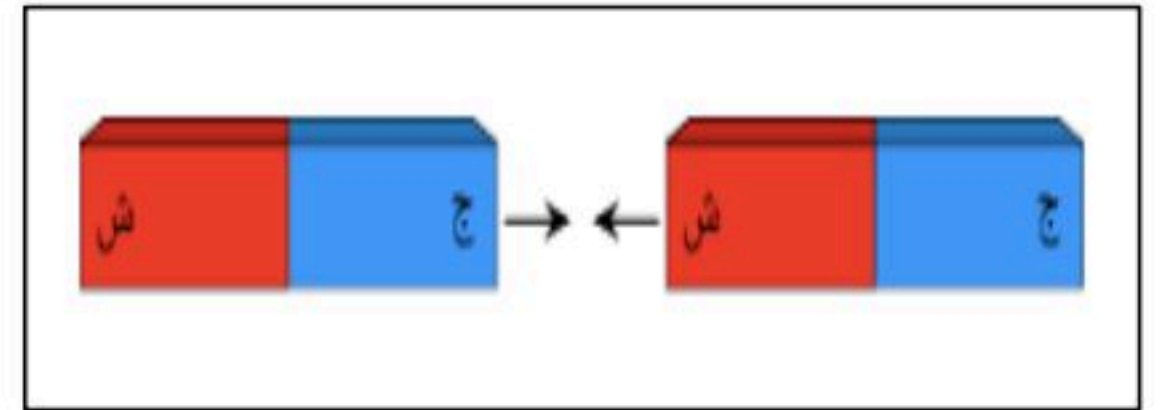
قطب

قطب

١٦/ من خلال الصور التالية أستنتج ماذا يحدث (تنافر - تجاذب)



.....



.....

١٧/ أرسم دائرة حول الإجابة الصحيحة :

١- أحد أشكال الطاقة تغير حالة المواد :

- القوة


- الحركة

- الحرارة

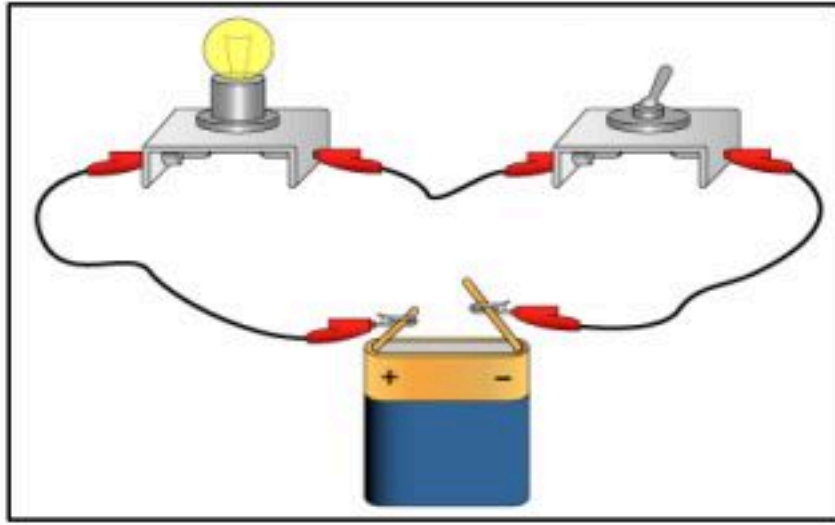
٢- الجهاز المستخدم لقياس درجة الحرارة :



٣- المقياس الذي يوضح أعلى درجة حرارة :



١٨/ أصل كل صورة بالكلمة المناسبة :

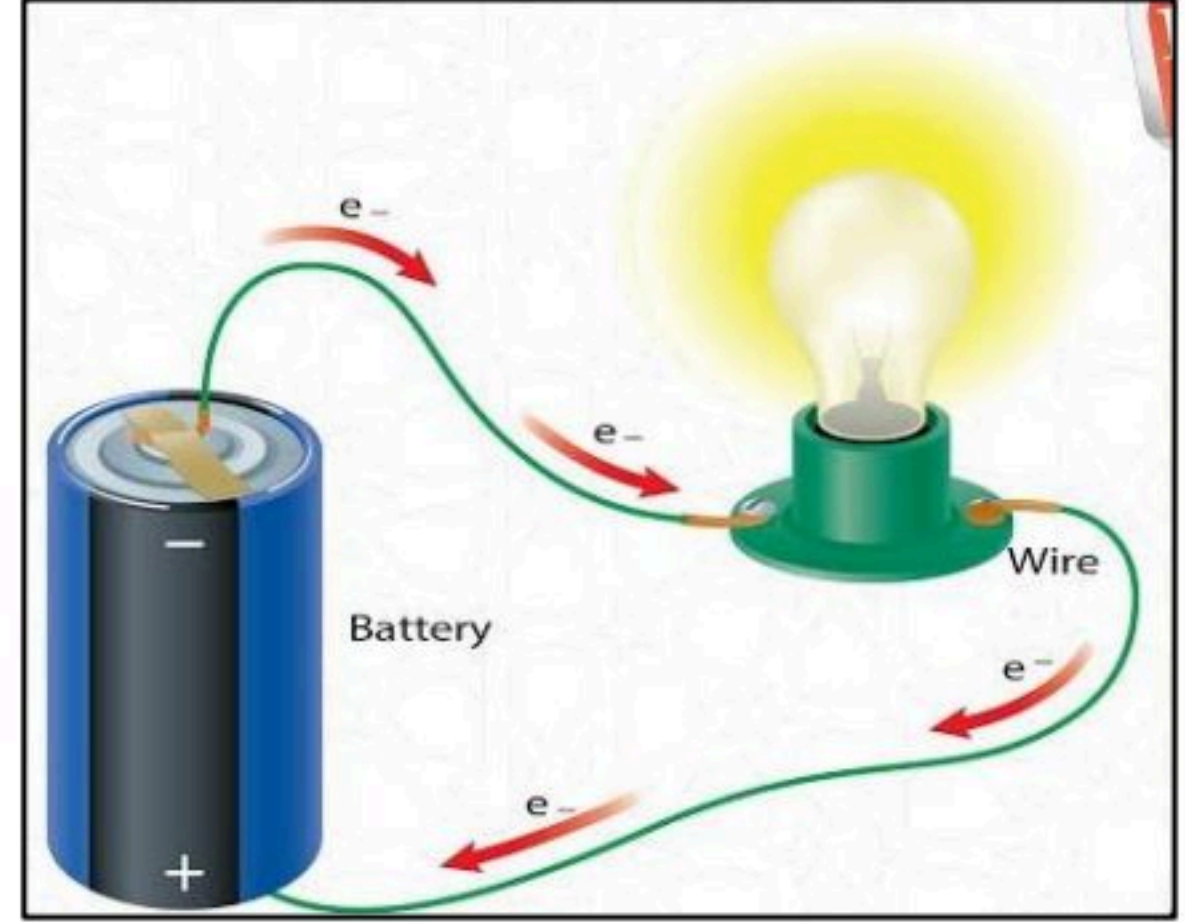



١٩ / أذكرى بعض استخدامات الكهرباء :

- ١-
- ٢-
- ٣-

٢٠/ أكمل الجمل باستخدام الكلمات التالية :

مغلقة - مفتوحة - يضيء - لا يضيء



الدائرة الكهربائية

المصباح الكهربائي

الدائرة الكهربائية

المصباح الكهربائي