

٢٠

(( تقويم مهارات الصف الأول الفترة الأولى ( الفترة الدراسية الثانية ( ١٤٤٧ هـ ))

اسم الطالب / ة ..... الصف: .....

( ١١ درجة )

\* السؤال الأول : أصل بين كل عبارته وما يناسبها :



مشمس



مطر



غانم



مثلج



الخريف




الشتاء



الصيف



الربيع



الغاز



السائل



الصلب




السؤال الثاني : أ ) اختاري الإجابة الصحيحة :

( ٩ درجات )

١ - في السنة .....			
٥ فصول	٤ فصول	٦ فصول	فصل واحد
٢- يكون الجو معتدل وتنمو النباتات في فصل .....			
الصيف	الخريف	الربيع	الشتاء
٣- تقاس درجة الحرارة ب .....			
مقياس المطر	دوارة الرياح	مقياس الحرارة	الميزان
٤- أشد فصول السنة حرارة فصل .....			
الخريف	الصيف	الشتاء	الربيع
٥- تتحرك الرياح ب			
بيطاء	لا تتحرك	بيطاء او سرعه كبيره	_____
٦ - حالة السماء والجو خلال اليوم يسمى .....			
الفصل	الطقس	الحرارة	_____

ب ) صلي كل صورة بالوعاء الذي تشغله :



تمنياي لكن بالتوفيق ..... معلمة المادة / وداد الحري .

(قناة أ . وداد الحري )

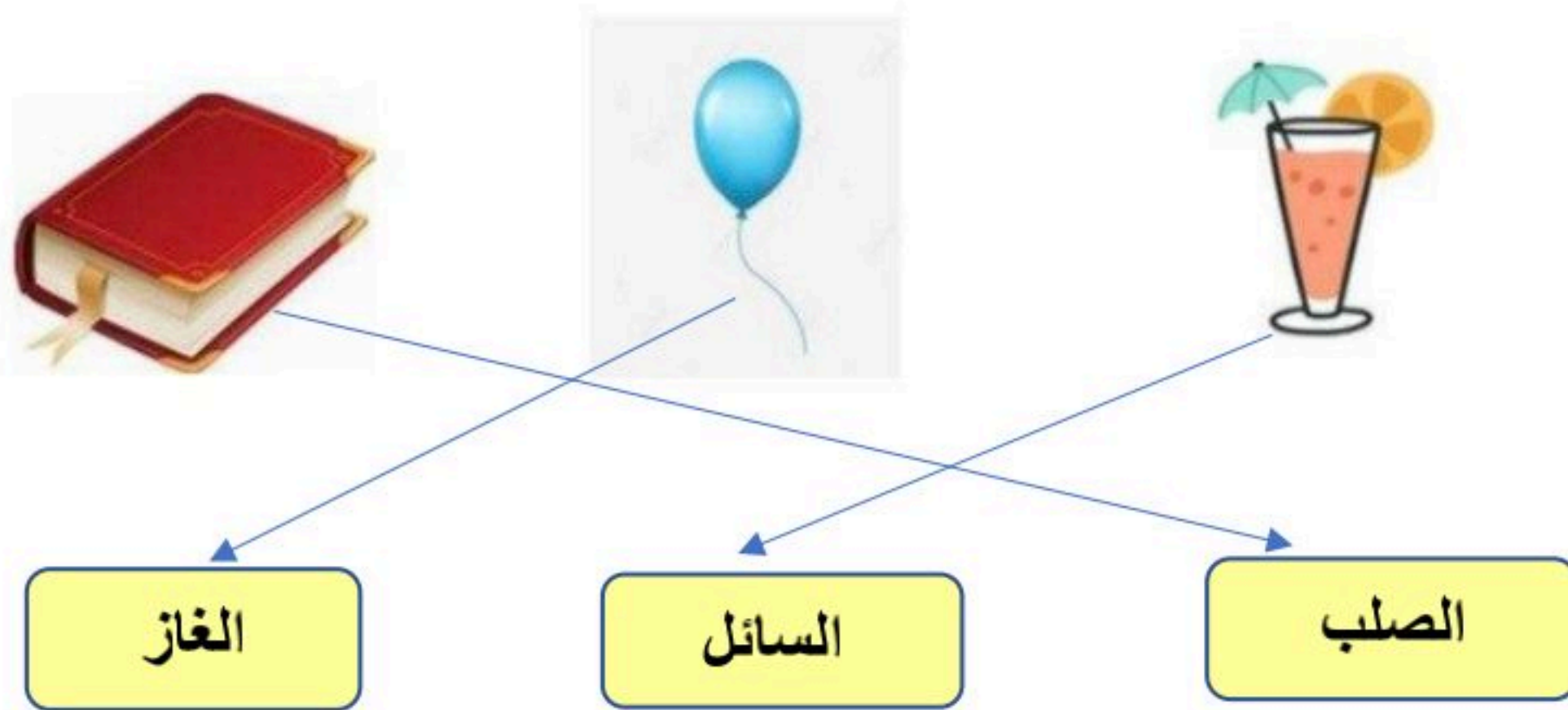
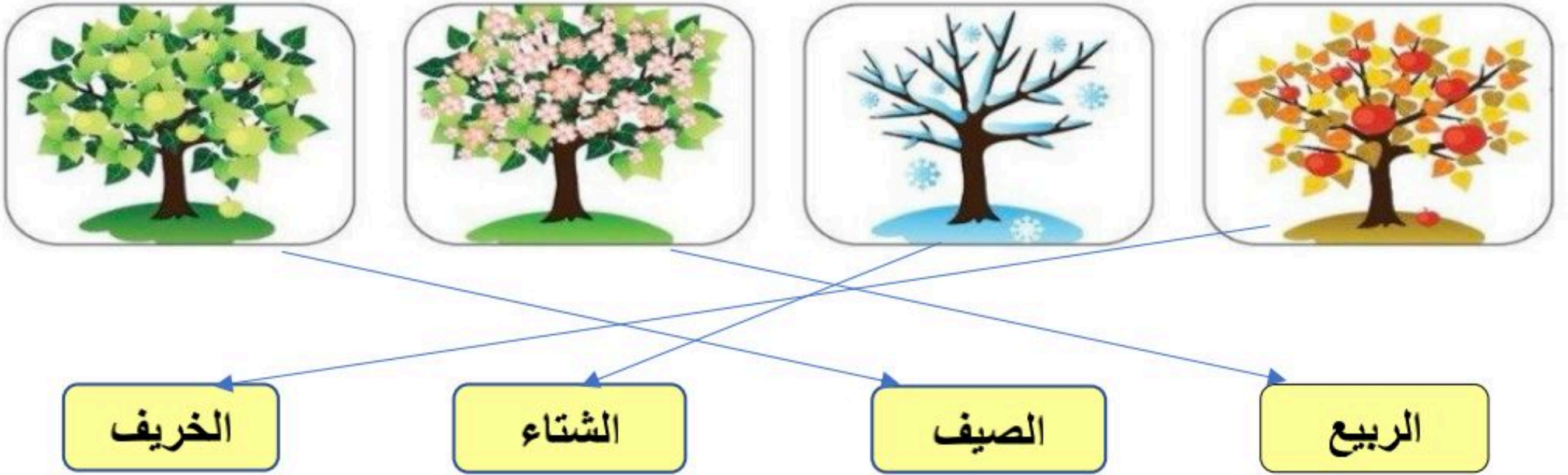
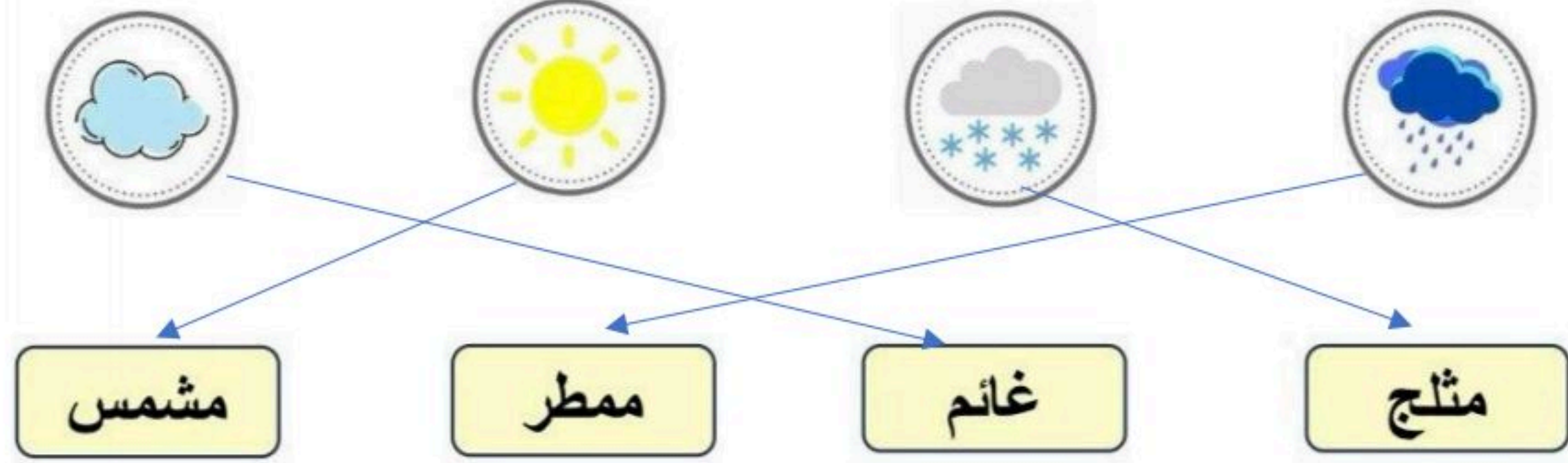
# نموذج الإجابة

(( تقويم مهارات الصف الأول الفترة الأولى ( الفترة الدراسية الثانية ( ١٤٤٧ هـ ))

اسم الطالب / ة ..... (( نموذج إجابة )) ..... الصف:

( ١١ درجة )

\* السؤال الأول : أصل بين كل عبارته وما يناسبها :

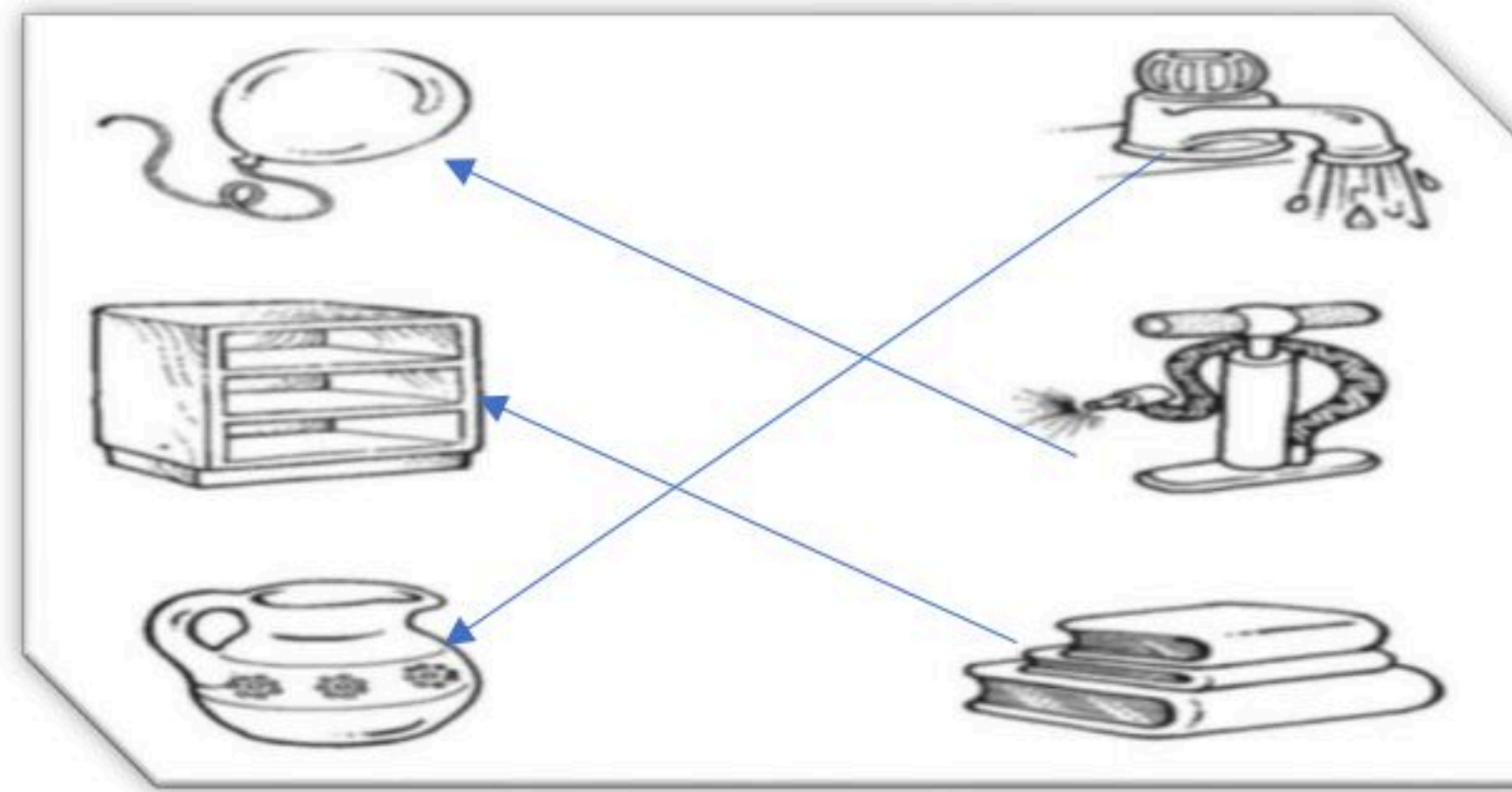


السؤال الثاني : أ ) اختاري الإجابة الصحيحة :

( ٩ درجات )

١ - في السنة .....			
٥ فصول	٤ فصول	٦ فصول	فصل واحد
٢- يكون الجو معتدل وتنمو النباتات في فصل .....			
الصيف	الخريف	الربيع	الشتاء
٣- تقاس درجة الحرارة ب .....			
مقياس المطر	دوارة الرياح	مقياس الحرارة	الميزان
٤- أشد فصول السنة حرارة فصل .....			
الخريف	الصيف	الشتاء	الربيع
٥- تتحرك الرياح ب			
بيطء	لا تتحرك	بيطء او سرعه كبيره	_____
٦ - حالة السماء والجو خلال اليوم يسمى .....			
الفصل	الطقس	الحرارة	_____

ب ) صلي كل صورة بالوعاء الذي تشغله :



تمنياي لكن بالتوفيق ..... معلمة المادة / وداد الحري . ❤️

(قناة أ . وداد الحري )